

nom: _____


data: _____

**Relaciona amb fletxes els cosos
geomètrics amb els objectes:**

CILINDRE



CORONA




PIRELLA




GLAS



TON



PIRELLA



$$\begin{array}{r} 12 \\ + 2 \\ \hline \end{array}$$

$$\begin{array}{r} 14 \\ + 3 \\ \hline \end{array}$$

$$\begin{array}{r} 11 \\ + 8 \\ \hline \end{array}$$

$$\begin{array}{r} 15 \\ + 3 \\ \hline \end{array}$$