

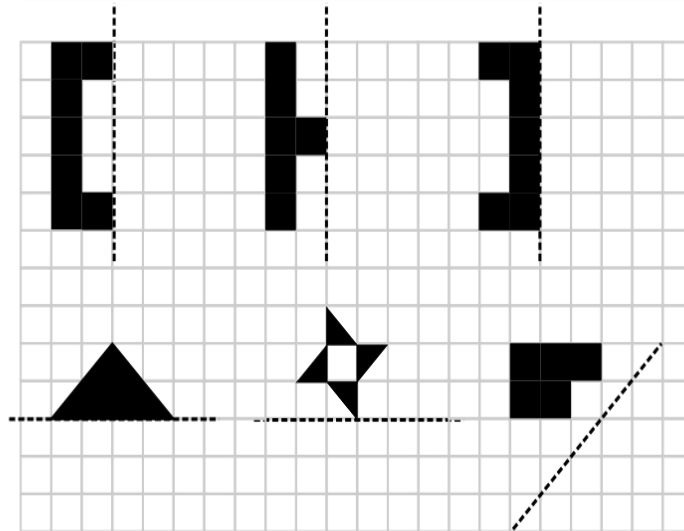
Nombre Fecha



EJES DE SIMETRÍA

Son líneas que dividen las formas de tal manera que una mitad es el espejo de la otra.

1. Dibuja la otra mitad de cada una de estas figuras simétricas.



Dos figuras serán simétricas si al doblar por el eje las 2 figuras coinciden.


2. ¿Cuántos ejes de simetría tienen estas figuras?




a.



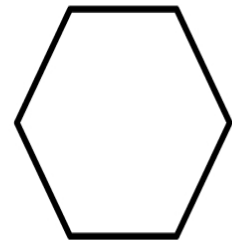
b.



c.



d.



e.

Respuestas: a.1, b.2, c.3, d.4 e.6