



Name \_\_\_\_\_ Date \_\_\_\_\_

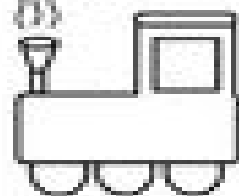


Write each missing number.

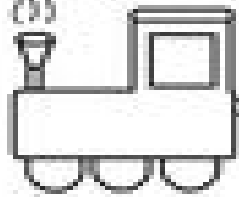
|   |  |  |  |  |  |  |  |  |    |
|---|--|--|--|--|--|--|--|--|----|
| 1 |  |  |  |  |  |  |  |  | 10 |
|---|--|--|--|--|--|--|--|--|----|



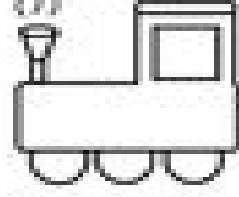
|    |  |  |  |  |  |  |  |  |    |
|----|--|--|--|--|--|--|--|--|----|
| 11 |  |  |  |  |  |  |  |  | 20 |
|----|--|--|--|--|--|--|--|--|----|



|    |  |  |  |  |  |  |  |  |    |
|----|--|--|--|--|--|--|--|--|----|
| 21 |  |  |  |  |  |  |  |  | 30 |
|----|--|--|--|--|--|--|--|--|----|



|    |  |  |  |  |  |  |  |  |    |
|----|--|--|--|--|--|--|--|--|----|
| 31 |  |  |  |  |  |  |  |  | 40 |
|----|--|--|--|--|--|--|--|--|----|



|    |  |  |  |  |  |  |  |  |    |
|----|--|--|--|--|--|--|--|--|----|
| 41 |  |  |  |  |  |  |  |  | 50 |
|----|--|--|--|--|--|--|--|--|----|