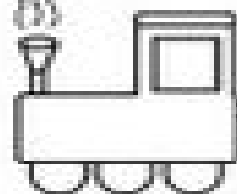
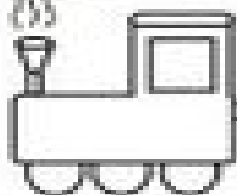


Name \_\_\_\_\_ Date \_\_\_\_\_




Write each missing number.


|   |  |  |  |  |  |  |  |    |
|---|--|--|--|--|--|--|--|----|
| 1 |  |  |  |  |  |  |  | 10 |
|---|--|--|--|--|--|--|--|----|




|    |  |  |  |  |  |  |  |    |
|----|--|--|--|--|--|--|--|----|
| 11 |  |  |  |  |  |  |  | 20 |
|----|--|--|--|--|--|--|--|----|



|    |  |  |  |  |  |  |  |    |
|----|--|--|--|--|--|--|--|----|
| 21 |  |  |  |  |  |  |  | 30 |
|----|--|--|--|--|--|--|--|----|



|    |  |  |  |  |  |  |  |    |
|----|--|--|--|--|--|--|--|----|
| 31 |  |  |  |  |  |  |  | 40 |
|----|--|--|--|--|--|--|--|----|



|    |  |  |  |  |  |  |  |    |
|----|--|--|--|--|--|--|--|----|
| 41 |  |  |  |  |  |  |  | 50 |
|----|--|--|--|--|--|--|--|----|