









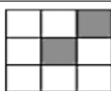



Name: \_\_\_\_\_

## Fraction Action!

**Directions:** Write what fraction of each shape is shaded in.

 <input type="text"/> <input type="text"/>	 <input type="text"/> <input type="text"/>	 <input type="text"/> <input type="text"/>
 <input type="text"/> <input type="text"/>	 <input type="text"/> <input type="text"/>	 <input type="text"/> <input type="text"/>
 <input type="text"/> <input type="text"/>	 <input type="text"/> <input type="text"/>	 <input type="text"/> <input type="text"/>
 <input type="text"/> <input type="text"/>	 <input type="text"/> <input type="text"/>	 <input type="text"/> <input type="text"/>