













Name _____

Date _____

Before & After Math

Fill in the blanks with the missing numbers.

 <input type="text"/> 72 <input type="text"/>	 <input type="text"/> 60 <input type="text"/>	 <input type="text"/> 9 <input type="text"/>
 <input type="text"/> 20 <input type="text"/>	 <input type="text"/> 89 <input type="text"/>	 <input type="text"/> 51 <input type="text"/>
 <input type="text"/> 17 <input type="text"/>	 <input type="text"/> 42 <input type="text"/>	 <input type="text"/> 36 <input type="text"/>
 <input type="text"/> 99 <input type="text"/>	 <input type="text"/> 29 <input type="text"/>	 <input type="text"/> 3 <input type="text"/>